

人教二年级数学下册期末检测⑤卷及答案

一、填一填。(8 题 4 分，其余每空 1 分，共 26 分)

- $54 \div 6 = (\quad)$ ，表示 54 里面有 (\quad) 个 6，也表示把 54 平均分成 (\quad) 份，每份是 (\quad) 。
- 一个四位数，个位上是 6，最高位上是最大的一位数，其余各位上都是 0，这个数是 (\quad) ，读作 (\quad) 。
- 2014 年仁川亚运会中，中国代表团总人数是 1328 人，其中运动员有 897 人，约 (\quad) 人；工作人员有 401 人，约 (\quad) 人。
- “神舟八号”飞船发射升空是 (\quad) 现象，螺旋桨工作是 (\quad) 现象。(填“平移”或“旋转”)
- 一头小牛约重 40 (\quad) 。
一支圆珠笔重约 10 (\quad) 。
欢欢体重 28 (\quad) ，身高 128 (\quad) 。
- 63 里面有 (\quad) 个 7，55 里面最多有 (\quad) 个 8。
- “我爱祖国我爱祖国我爱……”按这样排下去，第 21 个字是 (\quad) ，第 34 个字是 (\quad) 。
- 按要求排一排。
(1) 4508 5048 3999 6045 9993
 $(\quad) > (\quad) > (\quad) > (\quad) > (\quad)$ 。
(2) 2 千克 1600 克 800 克 5 千克 4999 克
 $(\quad) < (\quad) < (\quad) < (\quad) < (\quad)$

9. 3800 里面有()个百; 56 个十是(); 由 7 个千、2 个十和 6 个一组成的数是(), 约是()千。


二、判断。(每题 1 分, 共 5 分)

1. 在有余数的除法里, 余数一定要比商小。()
2. 一个四位数的最高位是万位。()
3. $66-27-18$ 与 $66-(27+18)$ 的运算顺序不相同, 但结果相同。()
4. 2 千克白糖和 2 千克西瓜一样重。()
5. 汽车方向盘的转动是旋转现象。()

三、选一选。(每题 1 分, 共 5 分)

1. 计算 $36 \div 4$ 所用的口诀是()。
①六六三十六 ②四九三十六 ③四四十六
2. 下列数中, 比 6000 小, 比 3500 大的是()。
①5098 ②6001 ③3050
3. 一个盒子的质量是 200 克, 在盒子里放入 800 克的点心后, 盒子和点心一共重()。
①600 克 ②10000 克 ③1 千克
4. 下列各数中一个零都不读的是()。
①4500 ②4005 ③4050
5. 下列运动中, 不是旋转的是()。


①



②



③



四、算一算。(1 题 6 分, 其余每题 8 分, 共 22 分)

1. 直接写结果。

$9 \times 9 =$

$600 + 30.00 =$

$64 \div 8 =$

$2000 - 100 =$

$60 - 24 =$

$72 \div 9 =$

$720 + 80 =$

$40 \div 5 =$

$6 \div 6 =$

$18 \div 2 =$

$1700 + 300 =$

$9000 + 1000 =$

2. 列竖式计算。

$72 \div 8 =$

$60 \div 7 =$

$39 \div 6 =$

$43 \div 9 =$

3. 计算下面各题。

$49 \div (26 - 19)$



$67 - 7 \times 9$

$18 + 36 \div 6$

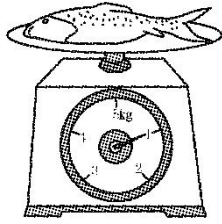
$(60 - 18) \div 7$

五、连一连，填一填。(每题 4 分，共 8 分)


1. 下面的图案分别是哪张纸上对折后剪出来的？连一连。



2. 有多重？



一条鱼重_____。



小朋友的体重是_____。


六、解决问题。(1 题 6 分，2 题 12 分，其余每题 8 分，共 34 分)

1. 同学们进行古诗文诵读表演。有 6 个小组参加，每个小组有 8 名同学，其中有两个小组的同学表演完了，还有多少名同学没有表演？

2. 有 36 枝花。



限插5枝



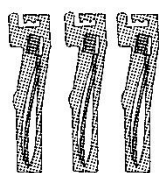
限插8枝

(1) 全部插进小花瓶，至少要多少个花瓶？

(2) 全部插进大花瓶，至少要多少个花瓶？

(3) 如果大花瓶和小花瓶共同搭配，要多少个花瓶？

3. 买牙刷。



①

21元



②

16元



③


9元

(1) 你认为买哪一种牙刷最划算？

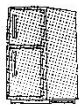
(2) 妈妈想买 6 把牙刷，你建议买哪种？要花多少元？

4. 购物。

(1) 买一台洗衣机和一台冰箱一共要多少元？




2800元



5000元



528元



3098元

(2) 爸爸想买一台电扇和一台电视机，带 3500 元够吗？

答案

一、1. 9 6 9 2. 9006 九千零六 3. 900 400

4. 平移 旋转 5. 千克 克 千克 厘米 6. 9 6 7. 我 爱

8. (1) $9993 > 6045 > 5048 > 4508 > 3999$

(2) $800 \text{ 克} < 1600 \text{ 克} < 2 \text{ 千克} < 4999 \text{ 克} < 5 \text{ 千克}$

9. 38 560 7026 七


二、1. \times 2. \times 3. \checkmark 4. \checkmark 5. \checkmark

三、1. ② 2. ① 3. ③ 4. ① 5. ①

四、1. 81 3600 8 1900 36 8 800 8 1 9 2000 10000

2. 9 8……4 6……3 4……7 3. 7 4 24 6

五、1.



2. 1 kg 25 kg

六、1. $(6-2) \times 8 = 32$ (名) 或 $6 \times 8 - 2 \times 8 = 32$ (名)

2. (1) $36 \div 5 = 7$ (个)……1 (枝) 小瓶: $7+1=8$ (个)

(2) $36 \div 8 = 4$ (个)……4 (枝) 大瓶: $4+1=5$ (个)

(3) $4 \times 5 + 2 \times 8 = 36$ (枝)

大瓶要 2 个, 小瓶要 4 个。(答案不唯一)

3. (1) $21 \div 3 = 7$ (元) $16 \div 2 = 8$ (元)

买①最划算。

(2) 买①。 $6 \times 7 = 42$ (元)

4. (1) $2800 + 5000 = 7800$ (元)

(2) $528 > 500$ $3098 > 3000$ $528 + 3098 > 3500$ 不够。