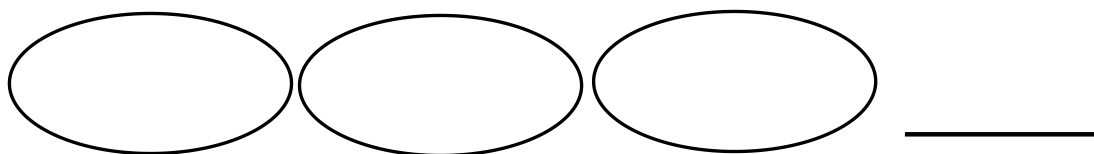


## 人教二年级下册数学易错题、难题精选

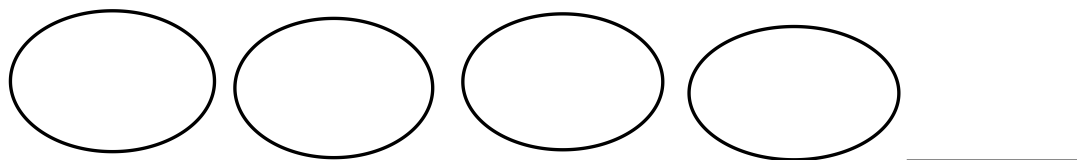
1、先画一画，再填空。

(1) 14 个□，平均分成 3 份，每份 ( ) 个，还剩 ( ) 个。



列式：□ ○ □ = □ (个) ..... □ (个)

(2) 14 个□，平均分成 4 份，每份 ( ) 个，还剩 ( ) 个。



列式：□ ○ □ = □ (个) ..... □ (个)



算式：□ ○ □ = □ (个) ..... □ (个)

□ ○ □ = □ (盘) ..... □ (个)

3、 余数可能是哪些数？请写出四道不同的算式。

□ ÷ 5 = □ ..... □      □ ÷ 5 = □ ..... □

□ ÷ 5 = □ ..... □      □ ÷ 5 = □ ..... □

4、 □里可以填哪些数？请写出六道不同的算式。

□ ÷ □ = 5 ..... 3

□ ÷ □ = 5 ..... 3

□ ÷ □ = 5 ..... 3

□ ÷ □ = 5 ..... 3

□ ÷ □ = 5 ..... 3

□ ÷ □ = 5 ..... 3

5、 有车轮 25 个，最多可以装多少辆三轮车？

6、 有 3 盒乒乓球，每盒 8 个，平均分给 3 个小朋友。每个小朋友分几个？还剩 几个？

7、 有 53 个玉米，小猴每次可以运 8 个，如果全部运完，至少要运多少次？

8、 在  $\square \div \bigcirc = 8 \cdots \cdots 6$  中， $\bigcirc$  最小是（ ），此时  $\square$  是（ ）。

在  $\square \div 8 = 6 \cdots \cdots \bigcirc$  中， $\bigcirc$  最大是（ ），此时  $\square$  是（ ）。

9、 在  $\square \div \square = \square \cdots \cdots 1$  中，除数最小是（ ）。

在  $\square \div \square = \square \cdots \cdots 2$  中，被除数最小是（ ）。

10、  $\bigcirc \bigcirc \square \square \square \bigcirc \bigcirc \square \square \square \bigcirc \bigcirc \square \square \square \cdots \cdots$ ，第 30 个图形是（ ）。

1, 3, 5, 1, 3, 5, 1, 3, 5  $\cdots \cdots$ ，第 19 个数是（ ）。

11、 用 2、5、8 这三个数字，你能组成多少个不同的三位数？请写出来。

12、 305 里面有（ ）个百和 5 个（ ）。985 由（ ）个十、9 个（ ）和（ ）个（ ）组成。最小的三位数是（ ），它前面一个数是（ ），后面一个数是（ ）。

12、 从 100、200、300、400、500、600、700、800、900 中挑选 8 个

数，填在下面的方框内使等式成立。

方法一： $\square + \square = \square + \square = \square + \square$

方法二： $\square + \square = \square + \square = \square + \square$

13、 $\square$ 里最小可以填什么数字？

$500 < \square 99$

$\square 55 > 156$

$695 < 69 \square$

$34 \square > 344$

$400 < \square 98$

$735 < 7 \square 9$

$63 \square > 637$

$\square 37 > 645$

14、桃树 485 棵，梨树比桃树少一些，杏树比桃树少得多，苹果树比桃树多一些。

(1) 苹果树有多少棵？哪个答案最合适？（在 $\square$ 内画“ $\checkmark$ ”）

$\square$ 470 棵

$\square$ 490 棵

$\square$ 800 棵

(2) 四种果树中，最多的（ ）树，最少的是（ ）树。

(3) 在正确的答案后面画 $\checkmark$ 。

桃树比杏树多一些。 $\square$

桃树比杏树多得多。 $\square$

15、在括号里填上合适的单位。

直尺的厚度大约是 2（ ）。 一根筷子大约长 2（ ）。

一支粉笔的长度大约是 1（ ）。 一只蚂蚁身长 4（ ）。

图钉长约 8（ ）。 一个文具盒的宽大约是 6（ ）。

一张课桌的高约是 8（ ）。

16、用 4 个珠，能在计数器上拨出多少个不同的三位数？请写下来。


17、一根绳子用去 80 毫米厚还剩 50 厘米，原来这根绳子长多少？

18、从 4、0、7、9 中选出三个数字组成的最大三位数是（      ），  
最小三位数是（      ）。

20、连线

760	七百零六	6 个百和 7 个一
607	六百七十	7 个百和 6 个一
670	七百六十	6 个百和 7 个十
706	六百零七	7 个百和 6 个十

21、（1）下面的线段长（    ）厘米（    ）毫米，也就是（    ）毫米。



（2）画一条比上面线段长 9 毫米的线段。

22、王奶奶家养了鹅、鸡、兔，其中鹅 267 只，鸡 135 只，兔 120 只。

（1）（      ）比（      ）少一些。

（2）（      ）比兔多得多。

（3）（      ）比（      ）\_\_\_\_\_。

23、按规律填数。

120、140、160、（      ）、（      ）、（      ）。

987、876、765、（      ）、（      ）、（      ）。

24、大力收集了 24 节废电池，小东收集的废电池比大力多，小星收集的废电池比大力少。

（1）小东最少收集了多少节废电池？

(2) 小星最多收集了多少节废电池?

25、 男士车 346 元一辆，女式车 357 元一辆，童车 288 元一辆，  
用 1000 元买上 面的三辆自行车，够不够?

27、上山要走 336 米，下山壁上山要多走 85 米，上山和下山一共要  
走多少米?

28、故事书有 382 本，科技书有 368 本，文艺书有 172 本。

(1) 故事书比科技书多多少本?

(2) 文艺书比科技书少多少本?

(3) 故事书和文艺书一共多少本?

(4) 三种书一共有多少本？

29、 自行车 368 元      手表 215 元      电风扇 98 元

根据以上条件，提出一个用减法计算的问题并解答。

30、 城西小学有 727 人，城东小学再增加 69 人就和城西小学一样多，城东小学有多少人？

31、 把下表补充完整。

兴趣班	总计	低年级	中年级	高年级
合计				
舞蹈班		28	38	39
书法班		33	37	43
小记者班		21	39	39

32、上午卖出 124 筐，下午卖出 218 筐，还剩下 159 筐，原来有多少筐苹果？

32、 根据每一组第一题的得数，直接写出后两题的得数。

$453+135=588$

$564+279=843$

$368+215=583$

$453+235=$

$464+279=$

$268+315=$

$453+335=$

$364+279=$

$168+415=$

33、

	钢笔	铅笔	圆珠笔
原有	162	374	238
卖出	78	164	(      )
还剩	(      )	(      )	154

34、 下面是学校科技作品展上的作品数量统计。

年级	一	二	三	四	五	六
件数	38	85	125	136	205	308

(1) 展出的三、四年级作品一共有多少件？

(1) 展出的四、五、六年级作品一共有多少件？

(2) 自己再提一个数学问题，并解答。

36、

户名	三月读数	四月读数	用电量
张芳	684	702	( ) 千瓦时
黄玲	868	903	( ) 千瓦时
李琴	989	1000	( ) 千瓦时

37、吸尘器 195 元 自行车 508 元 电吹风 200 元

(1) 估算一下，买上面三件商品大约需要 ( ) 百元。

(2) 算一算，一共要花多少元？

38、有 70 筐苹果，每次最多运 9 筐，至少要运多少次才能全部运完？

39、小猫家离学校 323 米，小狗家离学校 468 米。

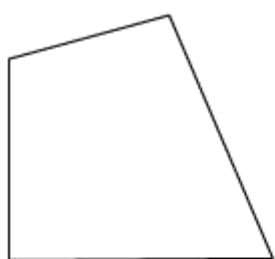
(1) 从学校到小狗家比到小猫家远多少米？

(2) 从学校到小熊家比到小猫家近 125 米，学校到小熊家有多少米？

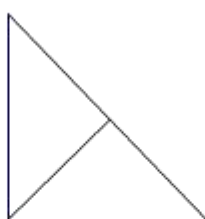


40、4 时整，乌龟距离海边还有 232 米，5 时整，乌龟距离海边还有 75 米。从 4 时到 5 时，乌龟爬行了多少米？

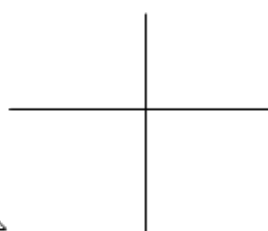
41、下面的图形中各有几个角？并标出直角标记。



( ) 个



( ) 个



( ) 个

42、钟面上\_\_\_\_\_时整，时针和分针形成的角是直角；（两个答案）

钟面上\_\_\_\_\_时整，时针和分针形成的角是锐角；（填一个即可）

钟面上\_\_\_\_\_时整，时针和分针形成的角是钝角；（填一个即可）

43、请画一个直角、一个锐角和一个钝角。

44、铅笔盒 12 元 钢笔 18 元 笔记本 4 元

(1) 买 1 个铅笔盒和 2 枝钢笔一共要用多少钱？

(2) 买 3 枝钢笔，付一张 50 元人民币，够吗？如果不够，还差多少元钱？

(3) 自己再提出一个用乘法解决的问题。

45、

原有	二年级借走	三年级借走	还剩
86 本	17 本	25 本	(      ) 本

原有	二年级班级数	每班借的本数	还剩
86 本	6	12	(      ) 本