

## 人教二年级数学下册期末检测一卷及答案

一、填一填。(8 题 4 分，其余每空 1 分，共 26 分)

1.  $54 \div 6 = ( \quad )$ ，表示 54 里面有( )个 6，也表示把 54 平均分成( )份，每份是( )。
2. 一个四位数，个位上是 6，最高位上是最大的一位数，其余各位上都是 0，这个数是( )，读作( )。
3. 2014 年仁川亚运会中，中国代表团总人数是 1328 人，其中运动员有 897 人，约( )人；工作人员有 401 人，约( )人。
4. “神舟八号”飞船发射升空是( )现象，螺旋桨工作是( )现象。(填“平移”或“旋转”)
5. 一头小牛约重 40( )。  
一支圆珠笔重约 10( )。  
欢欢体重 28( )，身高 128( )。
6. 63 里面有( )个 7，55 里面最多有( )个 8。
7. “我爱祖国我爱祖国我爱……”按这样排下去，第 21 个字是( )，第 34 个字是( )。
8. 按要求排一排。  
(1) 4508      5048      3999      6045      9993  
( )  $>$  ( )  $>$  ( )  $>$  ( )  $>$  ( )  
(2) 2 千克      1600 克      800 克      5 千克      4999 克  
( )  $<$  ( )  $<$  ( )  $<$  ( )  $<$  ( )

9. 3800 里面有( )个百; 56 个十是( ); 由 7 个千、2 个十和 6 个一组成的数是( ), 约是( )千。

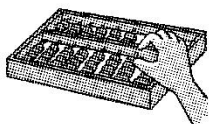
二、判断。(每题 1 分, 共 5 分)

1. 在有余数的除法里, 余数一定要比商小。 ( )
2. 一个四位数的最高位是万位。 ( )
3.  $66-27-18$  与  $66-(27+18)$  的运算顺序不相同, 但结果相同。 ( )
4. 2 千克白糖和 2 千克西瓜一样重。 ( )
5. 汽车方向盘的转动是旋转现象。 ( )

三、选一选。(每题 1 分, 共 5 分)

1. 计算  $36\div4$  所用的口诀是( )。  
①六六三十六                      ②四九三十六                      ③四四十六
2. 下列数中, 比 6000 小, 比 3500 大的是( )。  
①5098                              ②6001                              ③3050
3. 一个盒子的质量是 200 克, 在盒子里放入 800 克的点心后, 盒子和点心一共重( )。  
①600 克                              ②10000 克                              ③1 千克
4. 下列各数中一个零都不读的是( )。  
①4500                              ②4005                              ③4050
5. 下列运动中, 不是旋转的是( )。


①



②



③



四、算一算。(1 题 6 分，其余每题 8 分，共 22 分)

1. 直接写结果。

$9 \times 9 =$

$600 + 3000 =$

$64 \div 8 =$

$2000 - 100 =$

$60 - 24 =$

$72 \div 9 =$

$720 + 80 =$

$40 \div 5 =$

$6 \div 6 =$

$18 \div 2 =$

$1700 + 300 =$

$9000 + 1000 =$

2. 列竖式计算。

$72 \div 8 =$

$60 \div 7 =$

$39 \div 6 =$

$43 \div 9 =$

3. 计算下面各题。

$49 \div (26 - 19)$



$67 - 7 \times 9$

$18 + 36 \div 6$

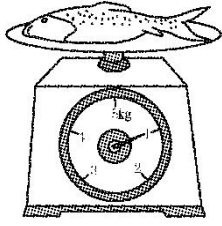
$(60 - 18) \div 7$

五、连一连，填一填。(每题 4 分，共 8 分)


1. 下面的图案分别是从小张纸上对折后剪出来的？连一连。



2. 有多重？



一条鱼重\_\_\_\_\_。



小朋友的体重是\_\_\_\_\_。


六、解决问题。(1 题 6 分，2 题 12 分，其余每题 8 分，共 34 分)

1. 同学们进行古诗文诵读表演。有 6 个小组参加，每个小组有 8 名同学，其中有两个小组的同学表演完了，还有多少名同学没有表演？

2. 有 36 枝花。



限插5枝



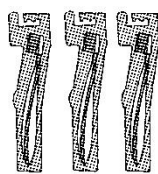
限插8枝

- (1)全部插进小花瓶，至少要多少个花瓶？

- (2)全部插进大花瓶，至少要多少个花瓶？

- (3)如果大花瓶和小花瓶共同搭配，要多少个花瓶？

3. 买牙刷。



①

21元



②

16元



③


9元

(1)你认为买哪一种牙刷最划算？

(2)妈妈想买 6 把牙刷，你建议买哪种？要花多少元？

4. 购物。

(1)买一台洗衣机和一台冰箱一共要多少元？




2800元



5000元



528元



3098元

(2)爸爸想买一台电扇和一台电视机，带 3500 元够吗？

## 答案

一、1.9 9 6 9 2.9006 九千零六 3.900 400

4. 平移 旋转 5.千克 克 千克 厘米 6.9 6 7.我 爱

8. (1) $9993 > 6045 > 5048 > 4508 > 3999$

(2) $800 \text{ 克} < 1600 \text{ 克} < 2 \text{ 千克} < 4999 \text{ 克} < 5 \text{ 千克}$

9. 38 560 7026 七


二、1. $\times$  2. $\times$  3. $\sqrt$  4. $\sqrt$  5. $\sqrt$

三、1.② 2.① 3.③ 4.① 5.①

四、1.81 3600 8 1900 36 8 800 8 1 9 2000 10000

2. 9 8.....4 6.....3 4.....7 3.7 4 24 6

五、1.



2. 1 kg 25 kg

六、1. $(6-2) \times 8 = 32$ (名)或 $6 \times 8 - 2 \times 8 = 32$ (名)

2. (1) $36 \div 5 = 7$ (个).....1(枝) 小瓶:  $7 + 1 = 8$ (个)

(2) $36 \div 8 = 4$ (个).....4(枝) 大瓶:  $4 + 1 = 5$ (个)

(3) $4 \times 5 + 2 \times 8 = 36$ (枝)

大瓶要 2 个, 小瓶要 4 个。(答案不唯一)

3. (1) $21 \div 3 = 7$ (元)  $16 \div 2 = 8$ (元)

买①最划算。

(2)买①。  $6 \times 7 = 42$ (元)

4. (1) $2800 + 5000 = 7800$ (元)

(2) $528 > 500$   $3098 > 3000$   $528 + 3098 > 3500$  不够。