

## 人教一年级数学下册期末检测⑤卷及答案

得分	评卷人

### 一、 计算（共 30 分）

#### 1、直接写得数。（16 分）

$15+20=$	$70+26=$	$6+(15-2)=$	$62-(12-9)=$
$22-3=$	$34-6=$	$40+(16+20)=$	$37+5-10=$
$90-9=$	$8+35=$	$75+(27-20)=$	$43-7-20=$
$23-6=$	$36+30=$	$52+(28-20)=$	$50+(20+20)=$

#### 2、写出计算过程（6 分）

$$\begin{array}{r}
 54 - 2 = \square \\
 \begin{array}{|c|c|} \hline \square & \square \\ \hline \end{array} \\
 \begin{array}{|c|} \hline \square \\ \hline \end{array}
 \end{array}$$

$$\begin{array}{r}
 54 - 20 = \square \\
 \begin{array}{|c|c|} \hline \square & \square \\ \hline \end{array} \\
 \begin{array}{|c|} \hline \square \\ \hline \end{array}
 \end{array}$$

$$\begin{array}{r}
 24 + 9 = \square \\
 \begin{array}{|c|c|} \hline \square & \square \\ \hline \end{array} \\
 \begin{array}{|c|} \hline \square \\ \hline \end{array}
 \end{array}$$

#### 3、在○填上“<”、“=”或“>”（8 分）

$62+9 \bigcirc 72+2 \quad 47+7 \bigcirc 53+3 \quad 46+4 \bigcirc 67-9 \quad 49+2 \bigcirc 86-8$

$14 \text{ 角} \bigcirc 1 \text{ 元} \quad 5 \text{ 角} \bigcirc 5 \text{ 分} \quad 1 \text{ 元 } 2 \text{ 角} \bigcirc 12 \text{ 角}$

$3 \text{ 角 } 4 \text{ 分} \bigcirc 3 \text{ 元 } 4 \text{ 角}$

得分	评卷人

## 二、填空（每空一分，共 25 分）

- 74 是由（     ）个十和（     ）个一组成的。
  - 4 个十和 9 个一合起来是（     ），比这个数多 1 的数是（     ）。
  - 和 69 相邻的两个数是（     ）和（     ）。
  - 50 比 78 少（     ）。 58 比 20 多（     ）。
  - 比 78 大 1 的数是（     ）；比 100 小 1 的数是（     ）；
  - 被减数是 62，减数是 7，差是（     ）。
- 一个加数是 53，另一个加数是 8，和是（     ）。

- 56 角 = （     ）元（     ）角     8 元 5 角 = （     ）角  
5 元 = （     ）角     30 分 = （     ）角

### 8、找规律填数

12	16	20	24	28				
----	----	----	----	----	--	--	--	--

5	6	8	11	15	20		
---	---	---	----	----	----	--	--

- 一张  可以换（     ）张 。一张  可以换（     ）张 。

得分	评卷人


三、选一选，选出正确答案画上“√”（共9分）

1、用哪个物体可以画出 ？

- ①  ( )    ②  ( )    ③  ( )

2、右图中有几个正方形。

1个	3个	5个	4个



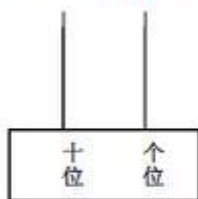
3、下面哪个数最接近50？

51	58	60	46

得分	评卷人

四、画一画，涂一涂。（共14分）

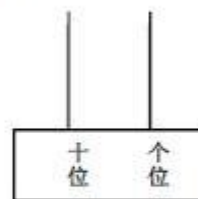
1、在计数器上画出珠子表示下面的数。（3分）



43



60

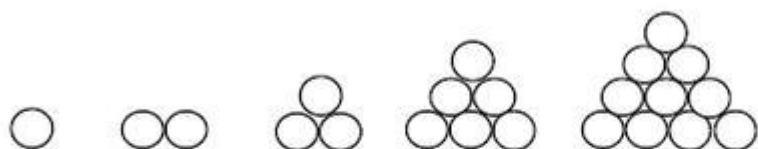


51

2、找规律接着画。（4分）

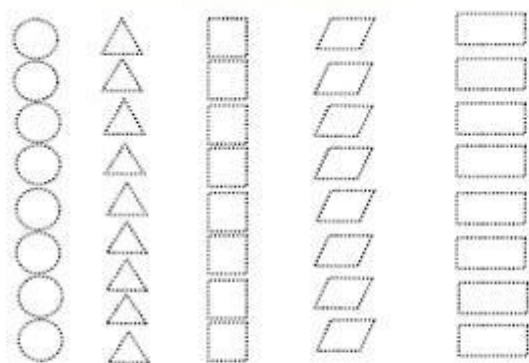



\_\_\_\_\_



\_\_\_\_\_

3、先按图形的形状分一分，再涂一涂，填一填。（7分）



○ ( ) 个

△ ( ) 个

□ ( ) 个

▱ ( ) 个

▭ ( ) 个

五、解决问题。（5题6分，其它各4分，共22分）

1、小兔还剩下多少根胡萝卜？



$$\square \bigcirc \square = \square \quad ( \quad )$$

2、手工课上，同学们做了 20 个风车，15 个海星，9 个小船，一共做了多少个手工玩具？

3、小明家有 15 只鸡和 6 只鹅。母鸡有 7 只，公鸡有几只？

$$\square \bigcirc \square = \square$$

4、红星小学一年级 29 个同学坐车去春游，若每辆车可坐 8 人，准备 3 辆车够不够？



5、

(1) 一桶油比一袋大米贵多少元？

¥ 6 元

¥ 38 元

¥ 20 元

(2) 妈妈买一桶油、一袋大米和一瓶醋一共花了多少元？

## 一年级（下册）数学学科期末

### 试题答案

1、直接写得数。（16 分）

35      96      19      59

19      28      76      32

81      43      82      16

17      66      60      90

2、写出计算过程（6 分）

52      34      33

3、<      <      <      <

>      <      =      <

二、填空（每空一分，共 25 分）

1、7    4

2、49    50

3、68    71

4、28    38

5、79    99

6、55    61

7、5    6    85    50    3

8、 32    36    40    44

26    33

9、 10    2

三、选一选，选出正确答案画上“√”（共9分）

1、 ②            2、 5个            3、 51

四、略

五、解决问题。（5题6分，其它各4分，共22分）

1、  $16-9=7$ （个）

2、  $20+15+9=44$ （个）

3、  $15-7=8$ （只）

4、  $8+8+8=24$ （个）  $24<29$  不够

5、  $38-20=18$ （元）

$38+20+6=64$ （元）