

人教一年级数学下册期末检测④卷及答案

一、我会填。(每空 1 分, 共 22 分)

1. ()个十和()个一组成 78, 8 个十和()个十合起来是一百。

2. 66 是()位数, 左边的 6 表示()个()。

3. 25 连续加 8, 写出每次的和。

25 33 () () ()

4. 8 元=()角 99 角=()元()角

6 角=()分

5. 把 折成一个正方体, \triangle 的对面是()。

6. 把 9 角、50 元、9 元、1 元、50 角按从大到小的顺序排列是:

() > () > () > () > ()

7. 在 5、47、100 和 59 中, 和 50 最接近的是(), ()

比 50 小得多, ()比 50 大得多。

二、我会辨。(每题 1 分, 共 5 分)

1. 最大的两位数比最小的三位数少 1。 ()

2. 26 比 62 少得多, 54 比 50 多一些。 ()


3. 减数一定比被减数小。 ()

4. 一个一个地数, 从 43 数到 50, 一共数了 7 个数。 ()

5. 一张 可以换 4 张 。 ()

三、我会选。(每题 1 分, 共 5 分)

1. 下面的物品中, ()最贵。



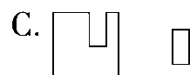

2. 46 50 54 58 66 70, 里应填()。

A. 60

B. 62

C. 64

3. 下面的图形能拼成正方形的是()。



4. 用 3 个●能摆()个不同的数。

A. 3

B. 4

C. 5

5. 下面各数中, 与 90 最接近的是()。

A. 86

B. 89

C. 92

四、我会算。(1 题 12 分, 2 题 9 分, 共 21 分)

1. 口算。

$40+30=$

$26+50=$

$58-8+45=$

$85-50=$

$98-6=$

$34+(19-9)=$

$41-7=$

$5+60=$

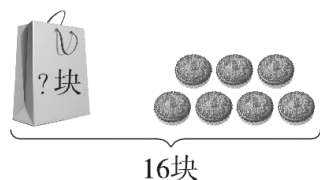
$80-(46-6)=$

$53-9=$

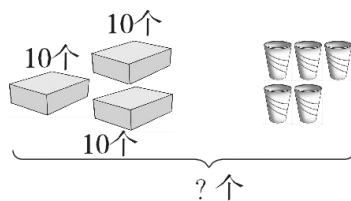
$92+8=$

$57+8-6=$

2. 看图列式计算。







$\square \bigcirc \square = \square \quad (\quad)$



$\square \bigcirc \square = \square \quad (\quad)$

五、填一填。(8 分)

				
原有	42 辆	()艘	65 架	()只
卖出	20 辆	45 艘	()架	25 只
剩下	()辆	8 艘	10 架	20 只

六、解决问题。(2 题 12 分，其余每题 5 分，共 27 分)

1. 兰兰和她的两个好朋友一起去植物园，门票 6 元一张。她们买门票要花多少钱？

2.



(1) 小明和小刚一共买了多少瓶？

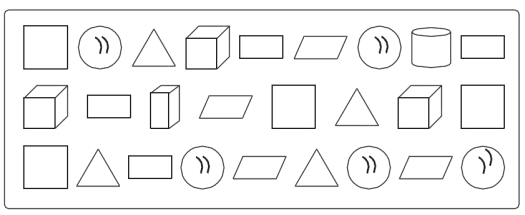
(2) 小芳比小明少买了多少瓶？

(1) 再提一个数学问题并解答。

3. 学校体育室有 26 个足球和 18 个篮球，分给二年级 9 个足球。体育室还有多少个足球？

4. 两个房间一共铺了 45 块红色瓷砖，小房间铺了 20 块。大房间铺了几块？

七、把下面的图形分类整理，并回答问题。(每题 4 分，共 12 分)



1. 按形状分一分，涂一涂，再填一填每种图形各有几个。

□

△

▭

▭

▨

▨

▨

⊗

□

△

▭

▭

▨

▨

▨

⊗

□

△

▭

▭

▨

▨

▨

⊗

□

△

▭

▭

▨

▨

▨

⊗

□

△

▭

▭

▨

▨

▨

⊗

□

△

▭

▭

▨

▨

▨

⊗

□

△

▭

▭

▨

▨

▨

⊗

()个

()个

()个

()个

()个

()个

()个

()个

2. 如果把这些图形分成两组，可以怎样分？把分组的结果表示出来。

个数		

3. 请你提出一个数学问题并解答。

答案

一、1. 7 8 2 2. 两 6 十

3. 41 49 57 4. 80 9 9 60

5. ○ 6. 50 元 9 元 50 角 1 元 9 角

7. 47 5 100

二、1. $\sqrt{\quad}$ 2. $\sqrt{\quad}$ 3. \times

4. \times [点拨]一共数了 8 个数。

5. $\sqrt{\quad}$

三、1. B 2. B 3. C 4. B 5. B

四、1. 70 76 95 35 92 44 34 65 40 44

100 59

2. $16-7=9$ (块) $30+5=35$ (个)

五、22 53 55 45

六、1. $6+6+6=18$ (元)

2. (1) $21+13=34$ (瓶)

(2) $13-9=4$ (瓶)

(3) 小明比小刚少多少瓶?

$21-13=8$ (瓶) (答案不唯一)

3. $26-9=17$ (个)

4. $45-20=25$ (块)

七、1. 涂一涂略 4 4 4 4 3 1 1 5

2.

	平面图形	立体图形
个数	16	10

(答案不唯一)

3. 正方形和长方形一共有几个?

$4+4=8$ (个) (答案不唯一)