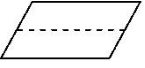


人教一年级数学下册期末检测一卷及答案

一、我会填。(每空 1 分, 共 34 分)

1.  折出了()个相同的()形。
2. 60 角=()元 89 角=()元()角
76 分=()角()分 1 元=()分
3. 96 里面有()个十和()个一, 再加上()个一就是 100。
4. 与 29 相邻的两个数是()和(), 这两个数的和是()。
5. 一个两位数, 个位上是 5, 十位上是 6, 这个两位数是()。
6. 按从小到大的顺序排列下面各数。

37 89 50 2 100 73 41

() < () < () < () < () < () < ()

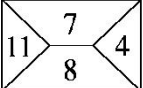
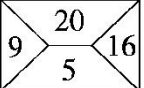
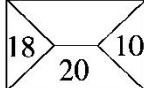
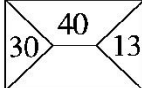
7. 98 比 90 多(), 9 比 16 少()。

8. 一张  能换()张  或()张 .


9. 按规律填一填。

(1)       () () ()

(2) 83 81 79 77 () () ()

(3)    

二、我会辨。(每题 1 分, 共 5 分)

1. 30 和 63 两个数中的 3 表示的意义一样。 ()
2. 至少用 8 个相同的  可以拼成一个大正方形。 ()

3. 小明买了一本 18 元的书，他付了 2 张 9 元的钱。 ()

4. 圆是一条封闭的曲线。 ()

三、我会选。(每题 1 分，共 5 分)

1. 最大的一位数和最小的两位数相差()。

A. 1 B. 9 C. 90

2. 读数和写数都从()起。

A. 个位 B. 十位 C. 最高位

3. 一个一个地数，64 后面第 3 个数是()。

A. 61 B. 66 C. 67

4. 下面最接近 20 的数是()。

A. 23 B. 18 C. 12

5. 一瓶牛奶卖 4()。

A. 角 B. 元 C. 分

四、我会算。(1 题 12 分，2 题 6 分，3 题 6 分，共 24 分)

1. 直接写出得数。

$25+4=$

$72-2=$

$14-5-6=$

$68-20=$

$26+7=$

$81-(47-7)=$

$63-5=$

$51-8=$

$40+60-8=$

$24+8=$

$20+43=$

$66-(34+6)=$

2. 把下面的算式按得数从小到大排列。

$56-30$

$9+56$

$88-6$




$30+26$

$47-7$

$45-9$

() < () < () < () < () < ()

3. 下面每组中各算式的得数相同，你能填出括号里面的数吗？



五、在合适的答案下面画“√”。(每题 2 分，共 4 分)

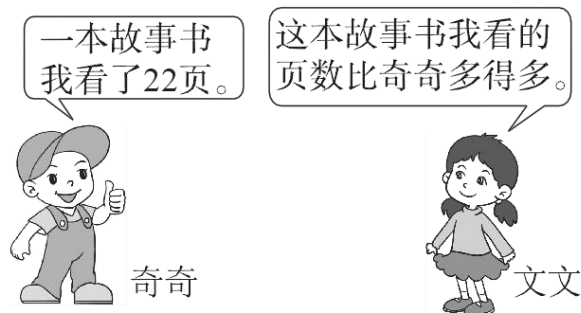
1.



咪咪可能钓了多少条鱼？

3	26	32

2.



文文可能看了多少页？

20	25	52

六、解决问题。(1 题 6 分，5 题 10 分，其余每题 4 分，共 28 分)

1.



17元



2元



9元




34元

(1) 一个熊猫玩具比一个文具盒贵多少钱？

(2) 买一个热水瓶和一个毽子共多少钱？

(3) 丽丽用 11 元刚好买了哪两样？

2. 一共有 15 人参加了堆雪人活动。



(1) 左边有 7 人，右边有几人？

(2) 男生有 9 人，女生有几人？

3.




分给 22 个小朋友。



每个小朋友分一盒，这些牛奶够吗？

4. 兰兰和红红共扎了 42 朵花，其中有 30 朵是红色的。兰兰扎了 20 朵，红红扎了多少朵？
5. 下面是一(2)班学生最喜欢的小动物的情况。



(1)根据上图填写下表。

					
	狮子	兔子	小熊	猴子	小象
人数					

- (2)喜欢()的人数最多，喜欢()和()的人数同样多。
- (3)你能提一个数学问题并解答吗？

答案

一、1. 2 平行四边 2. 6 8 9 7 6 100

3. 9 6 4 4. 30 28 58 5. 65

6. 2 37 41 50 73 89 100

7. 8 7 8. 2 5

9. (1) ☺☺♥ (2)75 73 71

(3)8 3

二、1. × [点拨]30 中的 3 表示 3 个十，63 中的 3 表示 3 个一。

2. × [点拨]至少用 4 个相同 可以拼成一个大正方形。

3. × [点拨]没有 1 张 9 元的钱。

4. √

三、1.A 2.C 3.C 4.B 5.B

四、1. 29 70 3 48 33 41 58 43 92 32

63 26 72 46 41

2. $56-30$ $45-9$ $47-7$ $30+26$ $9+56$ $88-6$

3. 4 7 7 64 50 27

五、1.

3	26	32
	√	

2.

20	25	52
		√

六、1. (1) $17-9=8$ (元)

(2) $34+2=36$ (元)

(3) $9+2=11$ (元)

刚好买一个文具盒和一个毽子。

2. (1) $15-7=8$ (人) (2) $15-9=6$ (人)

3. $8+8+8=24$ (盒) $24>22$ 够。

4. $42-20=22$ (朵)

5. (1) 10 12 8 10 6

(2) 兔子 狮子 猴子

(3) 喜欢狮子的和喜欢猴子的一共有多少人?

$10+10=20$ (人) (答案不唯一)