

人教一年级数学下册期末检测②卷及答案

一、我会填。(1 题 3 分，其余每空 1 分，共 32 分)

1. 个位和十位上的数字相同的两位数有()。

2. $6\text{角} + 5\text{角} = ()\text{角} = ()\text{元}()\text{角}$

$2\text{元} = ()\text{角}$

3. 至少用()根完全相同的小棒可以摆一个正方形，至少用()根完全相同的小棒可以摆一个长方形。

4. $4 + 8 = 7 + ()$ $15 - 6 = () + 3$

$() - 8 = 17 - 9$ $4 + 7 = 16 - ()$



5. 用

6
1
2
3
4
5

 折成一个正方体，数字“4”的对面是数字“()”。

6. $56 > \square 6$ ， \square 里可以填()。

7. 一张  可以换()张  和()张 .

8. 
  里有 6 个珠子，其中有()个 \circ ，()个 \bullet 。

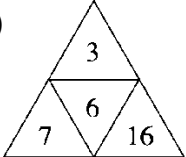
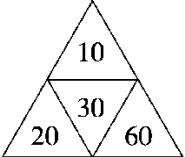
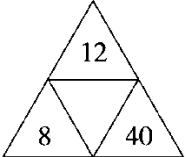
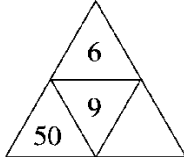
9. 按规律填数。

(1) 12 18 24 30 () () ()

(2) 72 68 64 60 () () ()

(3) 2 3 5 8 12 () () ()

(4)

			
---	---	--	---

10. 用 1、6、9 三个数字任意选 2 个组成没有重复数字的两位数，最

大的是(), 最小的是()。

二、我会选。(每题 2 分, 共 10 分)

1. 差是 6 的算式是()。

A. $13-6$ B. $6+8$ C. $15-9$

2. 用 6 个●可以表示()个不同的两位数。

A. 5 B. 6 C. 7

3. 买一本日记本, 付给售货员 10 元钱, 应找回()钱。



A. 2 元 5 角 B. 1 元 5 角 C. 6 角 8元5角

4. 丽丽买了一顶帽子, ()付钱方法最简单。



8元9角

A. 8 张 1 元, 9 张 1 角

B. 8 张 1 元, 1 张 5 角, 4 张 1 角

C. 1 张 5 元, 3 张 1 元, 1 张 5 角, 4 张 1 角

5. 妈妈今年 30 岁, 文文今年 5 岁, 3 年后文文比妈妈小()岁。

A. 28 B. 25 C. 28

三、我会算。(13 分)

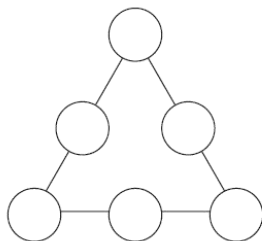
$42+8=(\quad)$ $64-(\quad)=58$ $(\quad)-40>27$

$51-9=(\quad)$ $(\quad)+36=45$ $(\quad)+8<42$


$64-40=(\quad)$ $(\quad)-40=27$ $24+(\quad)=24-(\quad)$

$20+47=(\quad)$ $20+(\quad)=83$ $46-(\quad)=38$


四、把 10、20、30、40、50、60 填在下面的○里，使每条直线上三个数的和为 100。(6 分)



五、猜猜我是谁?(6 分)



我比最小的两位数多9。



我加上6是56。



我个位是3，十位比个位大1。

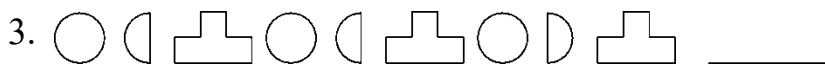
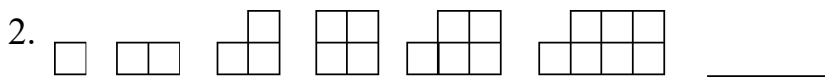
六、按要求在数字之间填上“+”，使下列等式成立。(每题 2 分，共 6 分)

1. 1 2 3 4=19

2. 1 2 5 6=32

3. 3 4 5 6 7=52

七、找出不符合的图形划去，换上正确的图形。(每题 2 分，共 6 分)



八、解决问题。(1 题 6 分，其余每题 5 分，共 21 分)

1. 周五大扫除，兰兰擦了 5 张桌子和 12 块玻璃，明明擦了 9 张桌子，
丽丽擦了 6 块玻璃。

(1)兰兰和丽丽一共擦了多少块玻璃?

(2)明明比兰兰多擦了多少张桌子？





2. 原来哥哥比弟弟多几颗糖？

我给弟弟8颗糖，我们的糖就同样多。



3. 18 个同学在玩老鹰抓小鸡游戏，已经抓到了 6 个，还有多少个没抓到？

4. 用下面的小棒摆五边形，至多可以摆几个五边形，还剩几根？



答案

一、 1. 11 22 33 44 55 66 77 88 99

2. 11 1 1 20

3. 4 6

4. 5 6 16 5 5.2

6. 1 2 3 4

7. 1 3 [点拨]答案不唯一。

8. 1 5

9. (1)36 42 48 (2)56 52 48

(3)17 23 30 (4)20 65

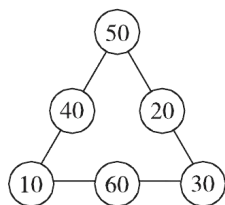
10. 96 16

二、1. C 2. B 3. B 4. C 5. B

三、50 6 70 42 9 2

24 67 0 0 67 63 8 (____处答案不唯一)

四、



五、19 50 43

六、1. $12+3+4=19$

2. $1+25+6=32$

3. $34+5+6+7=52$

七、1. ~~○~~ □

2.

3. ~~⊗~~ ⊂

八、1. (1) $12+6=18$ (块) (2) $9-5=4$ (张)

2. $8+8=16$ (颗) 3. $18-6-2=10$ (个)

4. $38-5-5-5-5-5-5-5=3$ (根)

至多可以摆 7 个五边形，还剩 3 根。